

DIDAKTICKÝ MATERIÁL

Pořadové číslo projektu: **CZ.1.07/1.4.00/21.1943**

Šablona: **III/2** Sada: **VI. 3.**

Ověření ve výuce

Třída: **6. B** Datum: **01. 03. 2012**



Shodnost geometrických útvarů

Předmět: **Matematika**



Ročník: **VI. ročník**

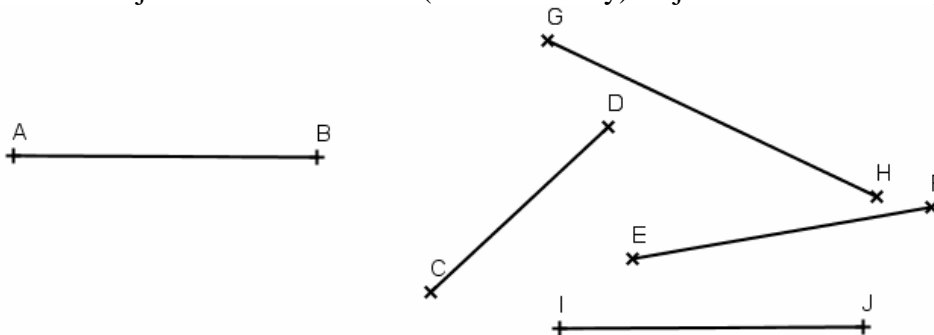
Klíčová slova: **shodnost, úsečka, úhel, obrazec, zápis shodnosti**

Autor (vč. titulu): **Mgr. Jana Hajíčková**

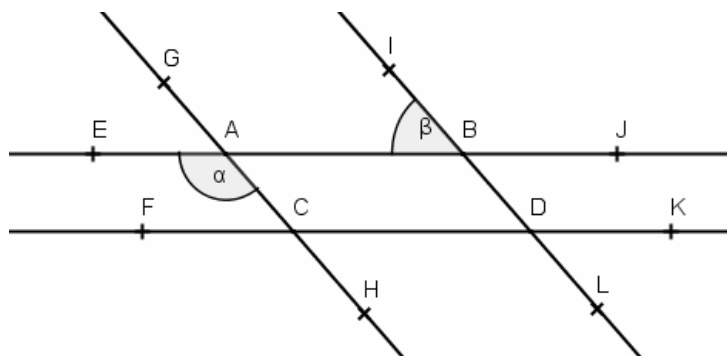
Škola: **Základní škola a Mateřská škola, Kubatova 1, České Budějovice**

list A

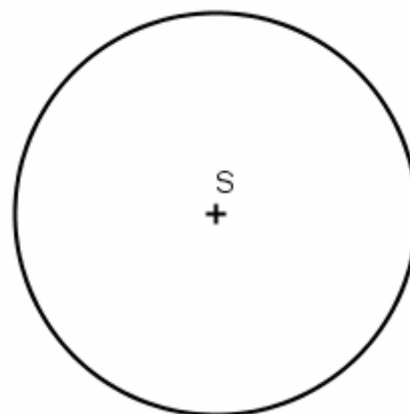
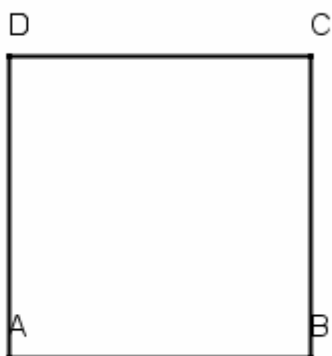
1. K úsečce AB najděte shodnou úsečku (shodné úsečky) a zjištěnou shodnost zapište.



2. Najděte shodné úhly k úhlům α a β , zdůvodněte a zapište.

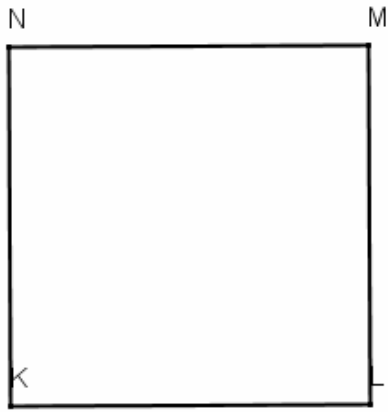


3. Ke každému geometrickému obrazci najděte z nabídky na „listu B“ jejich shodnou dvojici.

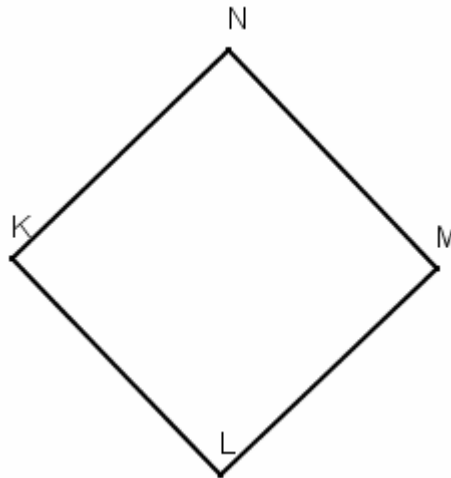


list B

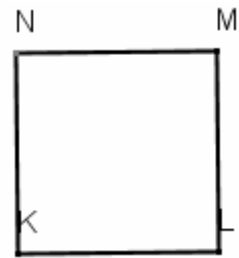
A 1)



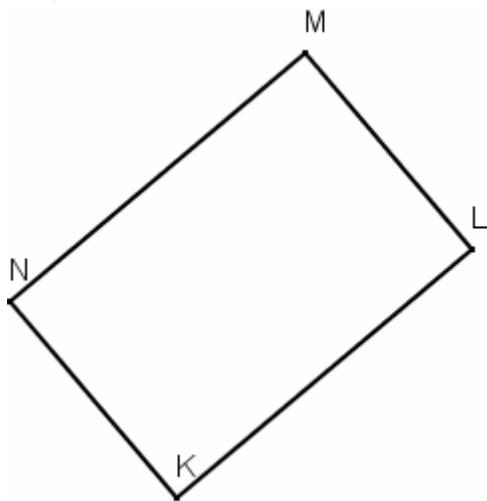
A 2)



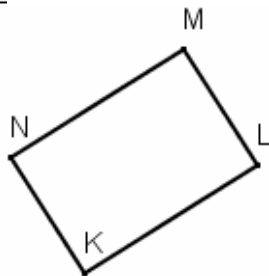
A 3)



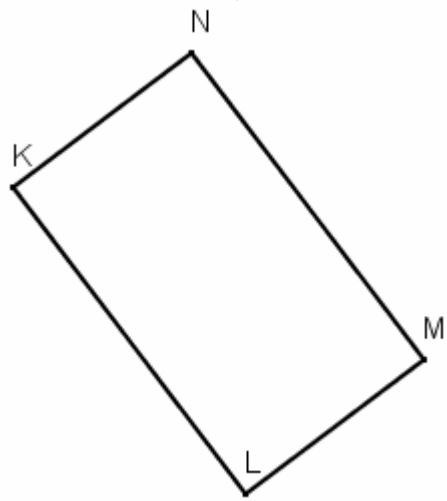
B 1)



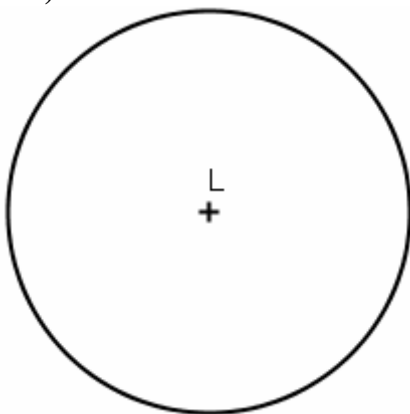
B 2)



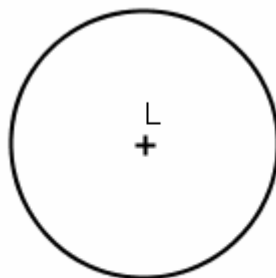
B 3)



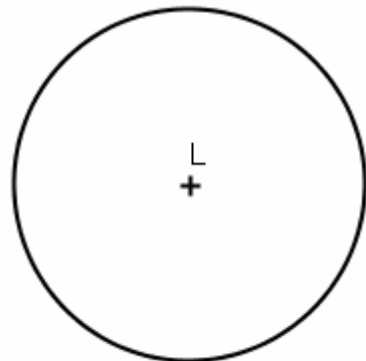
C 1)



C 2)



C 3)



Použité zdroje:

Microsoft Office Word 2007